



PERÚ

Ministerio
de Educación

RUTAS DEL
APRENDIZAJE

Matemática

Demostrando lo que aprendimos

Todos podemos aprender, nadie se queda atrás

Primer Trimestre

2.^o
grado
Primaria



Cuadernillo
2

Mi nombre:

Mi número de orden:

Sección:

Cuadernillo 2

Construcción del Sistema de Numeración
Decimal y del significado de las
operaciones






Piensa bien antes de responder.



Ahora puedes empezar.

1.

Dibuja las bolitas que faltan en cada bolsa para tener 10 bolitas en cada bolsa.



2.

Busca tres formas diferentes de hacer estas sumas. Escribe tus respuestas.

$$\underline{\quad} + \underline{\quad} = 18$$

$$\underline{\quad} + \underline{\quad} = 18$$

$$\underline{\quad} + \underline{\quad} = 18$$

3.

Lito tiene 20 semillas y quiere repartirlas en dos frascos. ¿Cuántas semillas debe poner en cada frasco? Escribe tu respuesta.




Ahora escribe otra forma diferente de repartir las 20 semillas en los dos frascos.



4.

Un ómnibus salió con 5 pasajeros. Luego subieron 8 pasajeros. ¿Cuántos pasajeros hay en total en el ómnibus?



Respuesta: _____

5.

Ernesto inició el juego con 12 canicas. Durante el juego ganó 7 canicas. ¿Cuántas canicas tiene ahora Ernesto?

Respuesta: _____

6.

Observa la tabla:

Cantidad de estudiantes que visitaron el museo		
	 Niños	 Niñas
Mañana	5	10
Tarde	2	3

¿Cuántas niñas en total visitaron el museo? Marca con X la tarjeta que representa tu respuesta.

$10 + 3$

$5 + 10$

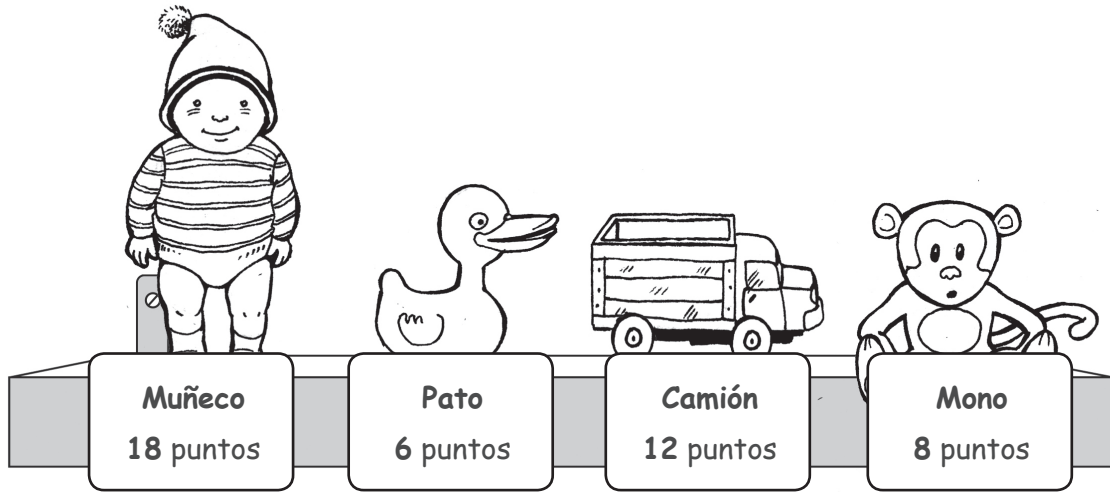
10

$2 + 3$



Observa:

JUNTA PUNTOS Y LLÉVATE ESTOS JUGUETES.



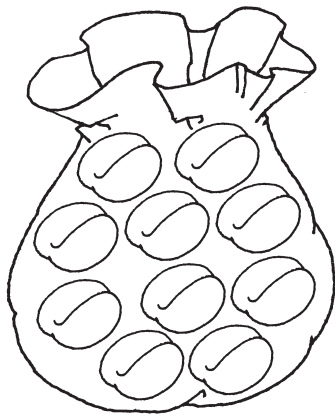
Rosa tiene 18 puntos. Ella quiere canjear dos juguetes diferentes con los puntos que tiene.

Escribe los juguetes que puede canjear Rosa.

_____ y _____.



Jaime tenía 10 panes en una bolsa. Luego comió 3 de estos panes. ¿Cuántos panes le quedaron en la bolsa?



Respuesta: _____

9.

El tablero muestra el número de figuritas que tenía Felipe.

Decenas	Unidades
1	7


Si Felipe regaló 5 de sus figuritas, ¿cuántas figuritas le quedaron?
Marca con X tu respuesta.

3 figuritas

12 figuritas

17 figuritas

10.

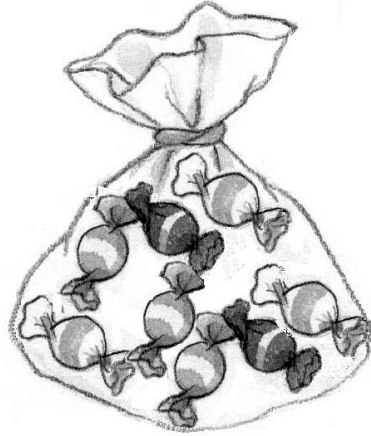
Separa estas manzanas en dos grupos, encerrándolas con un . Cada grupo debe tener la misma cantidad de manzanas.



11.

En una fiesta me regalaron 2 bolsitas con 8 caramelos en cada bolsita.

Aquí te muestro una de mis bolsitas.



¿Cuántos caramelos en total me regalaron?

Respuesta: _____